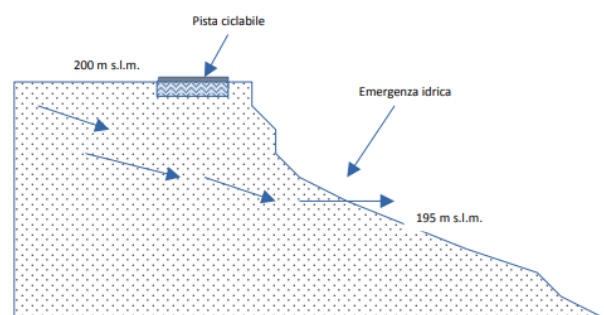
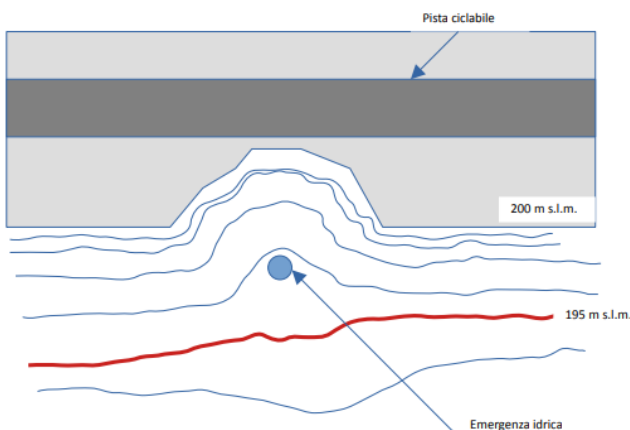


**CONCORSO PUBBLICO PER TITOLI ED ESAMI PER LA COPERTURA DI N. 1 POSTO A TEMPO PIENO ED INDETERMINATO AREA ISTRUTTORI, PROFILO PROFESSIONALE ISTRUTTORE TECNICO SERVIZIO PATRIMONIO IMMOBILIARE E INFRASTRUTTURALE – COD. CONCORSO C4/2025.**

**PROVA SCRITTA – TRACCIA A - ESTRATTA**

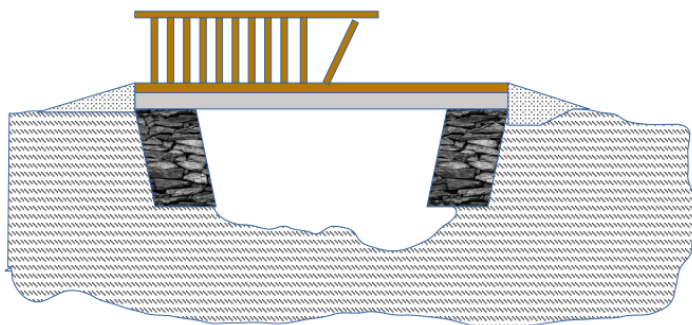
TESTO DOMANDE:

1. Ai sensi della l.r. 19/2009, da cosa è composta la Rete Ecologica Regionale?
2. Quali sono le parti che compongono un atto amministrativo della pubblica amministrazione?
3. Nell'ambito di un incarico di progettazione distingua il candidato la procedura di affidamento se inferiore o superiore a 5.000,00 ai sensi della normativa vigente per le pubbliche amministrazioni
4. All'interno dell'Area Protetta del Parco del Ticino si è verificato uno smottamento immediatamente a valle del percorso ciclopedonale raffigurato. Il materiale sottostante la strada è interamente caratterizzato da alternanze di materiale ghiaioso, sabbioso e limoso, tipico dei terrazzamenti fluviali. Il candidato descriva tutte le misure operative, progettuali e procedurali che devono essere attuate dal momento in cui viene segnalata la criticità fino all'attuazione di un intervento di sistemazione



5. All'interno di un'Area Protetta si è verificata, a seguito di un evento alluvionale, la criticità sotto rappresentata, che ha interessato un itinerario ciclopedonale riportato nella documentazione di fruizione del Parco. Il corso d'acqua, normalmente povero d'acqua, risulta di proprietà demaniale. Il candidato descriva il fenomeno rappresentato e tutte le misure

operative, progettuali e procedurali che devono essere attuate dal momento in cui viene segnalata la criticità fino all'attuazione di un intervento di sistemazione



6. Presso la Villa Picchetta, sede dell'ente, si rende necessario un intervento di parziale rifacimento del manto di copertura dell'edificio.  
Si precisa che:

Villa Picchetta è soggetta a vincolo monumentale specifico;

L'importo dei lavori viene stimato in 100.000€.

Illustri il candidato le fasi procedurali: progettazione, acquisizione dei pareri necessari alla realizzazione dell'intervento, procedura di affidamento dei lavori, esecuzione e completamento delle opere.

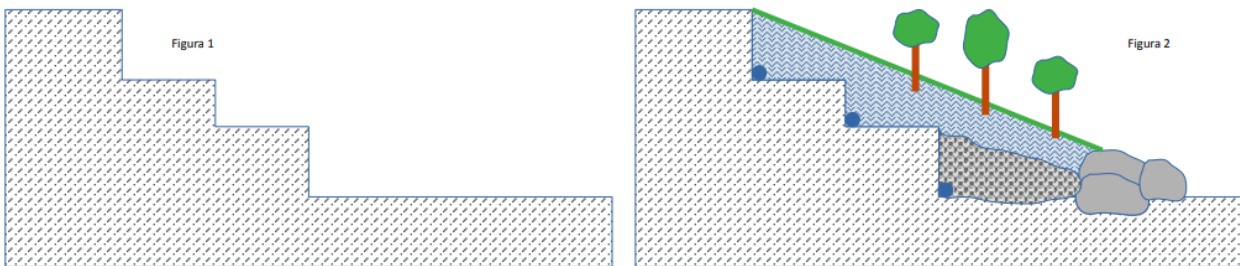
### **PROVA SCRITTA – TRACCIA B – NON ESTRATTA**

TESTO DOMANDE:

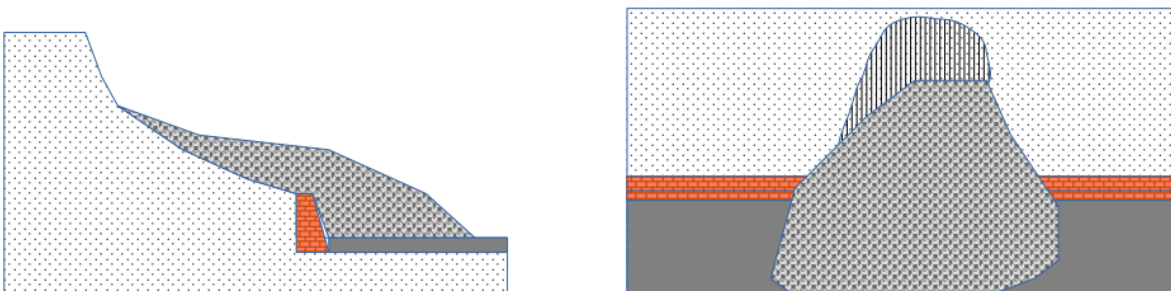
1. Quali sono le differenze principali a livello organizzativo e gestionale tra le aree tutelate della Rete Natura 2000 (SIC, ZPS, ZSC) e le aree del sistema regionale delle aree protette descritte all'art. 4 della l.r. 19/2009?
2. In base alla Strategia Nazionale sulla biodiversità le principali minacce alla biodiversità a livello di specie ed habitat sono le seguenti:
  - perdita di suolo e cambio della sua destinazione d'uso, modificazioni e frammentazione degli habitat;
  - abbandono delle attività agricole tradizionali e semplificazione degli agro-ecosistemi;
  - inquinamento delle matrici ambientali;
  - cambiamenti climatici;
  - diffusione di specie aliene invasive;
  - pressione venatoria e disturbo indiretto da essa derivante e bracconaggio;
  - realizzazione di infrastrutture.

Scegliere uno dei suddetti fattori di pressione e illustrare sinteticamente gli effetti che possono determinare sulla biodiversità.

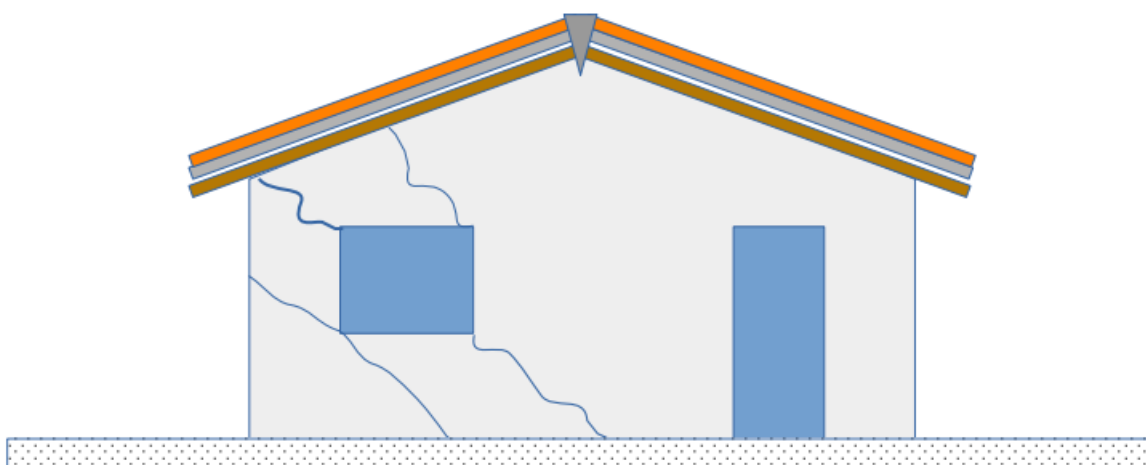
3. Nell'ambito di un incarico di progettazione elenchi il candidato gli elaborati richiesti nell'ambito del PFTE e del progetto esecutivo nonché la procedura di approvazione di entrambe le fasi ai sensi del Codice degli Appalti vigente
4. La figura 1 e la figura 2 rappresentano, in sezione, le modalità di recupero ambientale di un sito di ex-cava coltivata a gradoni, in stato di abbandono da decenni, all'interno di un' Area divenuta Protetta. Il candidato descriva in cosa consiste l'opera schematizzata in figura 2 e l'obiettivo per il quale viene realizzata, definisca il significato di ciascun componente raffigurato e quindi descriva tutte le misure operative, progettuali e procedurali che devono essere attuate dalla configurazione iniziale a quella di completa attuazione dell'intervento.



5. All'interno della Riserva Naturale Parco della Burcina (BI) si è verificato uno smottamento immediatamente a monte della strada carrabile di accesso ad uno dei siti di interesse. Il materiale costituente il versante è interamente caratterizzato da alternanze di materiale sabbioso e limoso, costituente la porzione di alterazione superficiale della roccia sottostante, la cui profondità non è nota . Il candidato descriva tutte le misure operative, progettuali e procedurali che devono essere attuate dal momento in cui viene segnalata la criticità fino all'attuazione di un intervento di sistemazione.



6. In un piccolo fabbricato di proprietà dell'Ente si sono verificati importanti fenomeni di cedimento strutturale. Il candidato descriva tutte le misure operative, progettuali e procedurali che devono essere attuate dal momento in cui viene segnalata la criticità fino all'attuazione di interventi provvisori e di un intervento di sistemazione definitiva



### **PROVA SCRITTA – TRACCIA C – NON ESTRATTA**

#### TESTO DOMANDE:

1. Nell'ambito di procedure di valutazione ambientale (VIA, VAS, Valutazione di incidenza) cosa si intende per misure di *mitigazione* ambientale e misure di *compensazione* ambientale e come si differenziano.
2. Ai sensi dell'art. 26 della L.R. 19/2009 il candidato illustri in modo sintetico la procedura di redazione e approvazione del Piano d'Area di un Parco Naturale
3. Il candidato illustri le tipologie e le diverse procedure delle conferenze dei servizi ai fini dell'ottenimento delle autorizzazioni di legge.
4. Nel passaggio dalla figura 1 alla figura 2 è schematizzata la realizzazione di una fascia tampone su ciascuna sponda di un canale irriguo, all'interno dell'Area Protetta del Parco del Ticino. Il candidato descriva in cosa consiste tale opera e l'obiettivo per il quale viene realizzata, definisca il significato di ciascun componente raffigurato e quindi descriva tutte le misure operative, progettuali e procedurali che devono essere attuate dalla configurazione iniziale a quella di completa attuazione dell'intervento.

Figura 1



Figura 2



5. All'interno dell'Area Protetta del Parco del Ticino si è verificato il crollo di numerosi alberi su un percorso carrabile. Alcuni soggetti arborei non crollati potrebbero trovarsi in situazioni di stabilità critica. Il candidato descriva tutte le misure operative, progettuali e procedurali che devono essere attuate dal momento in cui viene segnalata la criticità fino all'attuazione di un intervento di sistemazione



6. All'interno dell'Area Protetta del Parco del Ticino si è verificato uno smottamento della sponda, immediatamente a valle del percorso ciclopeditonale raffigurato. Il fenomeno è stato causato dall'erosione spondale di un piccolo corso d'acqua naturale. Il materiale sottostante la strada è interamente caratterizzato da alternanze di materiale ghiaioso, sabbioso e limoso, tipico dei terrazzamenti fluviali. Il candidato descriva tutte le misure operative, progettuali e procedurali che devono essere attuate dal momento in cui viene segnalata la criticità fino all'attuazione di un intervento di sistemazione

Pista ciclopedonale

